

Механическая энергия.

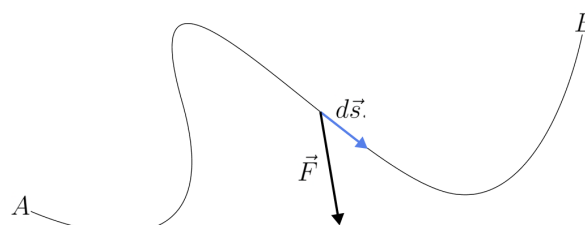
Закон сохранения энергии — фундаментальный закон природы, заключающийся в том, что для изолированной физической системы может быть введена скалярная физическая величина, являющаяся функцией параметров системы и называемая энергией, которая сохраняется с течением времени. Если физики сталкиваются с процессом, в котором энергия не сохраняется, то они придумывают новый вид энергии. Именно поэтому энергия сохраняется всегда!



В данной задаче предлагается подробно разобраться с одним из видов энергии: **механической энергией**.

Часть 1. Теорема об изменении Кинетической энергии.

Рассмотрим движение материальной точки (М.Т.) вдоль кривой s . М.Т. движется за счет действия непостоянной силы \vec{F} . Рассмотрим работу этой силы при перемещении М.Т. из точки A в точку B . Модуль скорости М.Т. в точке A v_A , в точке B v_B . Масса М.Т. m .



(1.1) Запишите, чему равна элементарная работа δA силы \vec{F} . Чему равна чему равна работа A силы \vec{F} ? Ответ выразите через \vec{F} , $d\vec{s}$.

(1.2) Свяжите элементарную работу δA с модулем скорости точки. Ответ выразите через v , dv .

(1.3) Найдите работу по перемещению М.Т. из точки A в точку B . Ответ выразите через v_A , v_B , m .

Если теперь обозначить $K = \frac{mv^2}{2}$ - кинетической энергией М.Т., то получим:

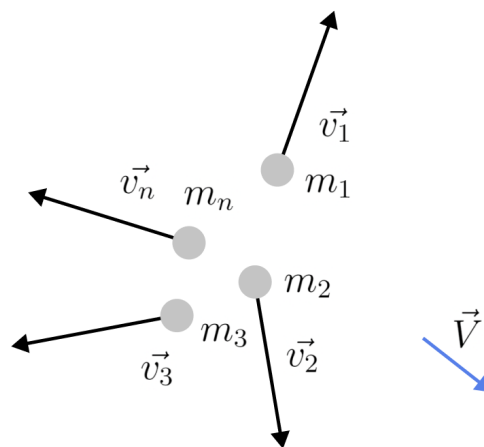
$$A = K_B - K_A = \Delta K$$

Выражение выше называется *теоремой об изменении Кинетической энергии*.

Часть 2. Теорема Кёнига.

Теорема Кёнига связывает кинетическую энергию системы с разными точками пространства.

Пусть есть система из М.Т. со скоростями $\vec{v}_1, \vec{v}_2, \vec{v}_3 \dots \vec{v}_n$ и массами $m_1, m_2, m_3 \dots m_n$ относительно покоящейся точки О. Скорость некоторой точки(нематериальной) А \vec{V} .

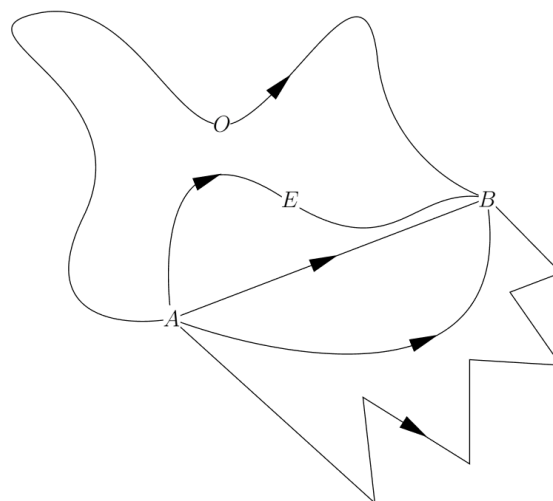


-
- (2.1) Найдите полную кинетическую энергию системы М.Т. K_O . В ответе запишите сумму. Ответ выразите через m_i, \vec{v}_i
- (2.2) Найдите скорость i -ой М.Т. \vec{u}_i относительно точки А. Ответ выразите через \vec{v}_i, \vec{V} .
- (2.3) Получите выражение для полной кинетической энергии системы. В ответе запишите сумму. Ответ выразите через m_i, \vec{u}_i, \vec{V}
- (2.4) Получите выражение для полной кинетической энергии. Ответ выразите через K_A - кинетическую энергию системы относительно точки А, а также некоторые суммы.
- (2.5) Пусть точка А - центр масс системы. Чему равен суммарный импульс системы относительно центра масс?
- (2.6) Свяжите кинетическую энергию K с кинетической энергией центра масс K_C , а также V_C, M скорость центра масс и суммарная масса системы соответственно.
-

Выражение $K = K_C + \frac{MV_C^2}{2}$ называется Теоремой Кёнига.

Часть 3. Потенциальная энергия.

Есть определенный тип сил (они называются **консервативными**), работа которых не зависит от пути. Т.е. работа по консервативной силе по любой траектории на рисунке одна и та же.



(3.1) Запишите, как связаны работа по перемещению A_{AEB} и A_{AOB} .

(3.2) Запишите, как связаны работы по перемещению A_{AO} , A_{OB} , A_{AB} .

Назовем потенциальной энергией U_X **работу консервативной силы по перемещению из данной точки X в точку O .**

(3.3) Как связаны U_A и A_{AO}

(3.4) Как связаны U_B и A_{OB}

(3.5) Как связаны U_A , U_B , A_{AB} .

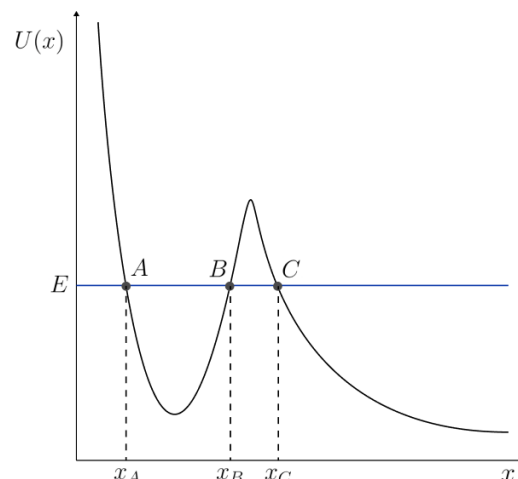
Часть 4. Закон сохранения механической энергии.

Если на М.Т. действуют только консервативные силы, то говорят, что механическая энергия $E = K + U$ сохраняется.

(4.1) Получите закон сохранения механической энергии.

Часть 5. Анализ потенциальной кривой.

Потенциальная кривая $U(x)$ - график зависимости потенциальной энергии, от положения М.Т. Ясно, что $U(x) \leq E$. Из чего можно сделать вывод, что М.Т. может находиться либо $[x_A; x_B]$ (**финитное** движение), либо $[x_C; +\infty)$ (**инфинитное** движение). Т.к. при финитном движении М.Т. колеблется между x_A , x_B , то такое движение называют **колебательным**. Рассмотрим задачу:



Материальная точка массы m может двигаться без трения вдоль оси X .
Зависимость её потенциальной энергии от координаты задается выражением:

$$U(x) = ka^2\left(\frac{x^2}{a^2} + \frac{a^2}{x^2} - 2\right)$$

Где a, k - известные постоянные положительные величины.

(5.1) Постройте схематический график $U(x)$. Найдите все параметры (асимптоты, экстремумы, нули и т.д.).

(5.2) Получите выражение для кинетической энергии М.Т. K . Ответ выразите через m, \dot{x} .

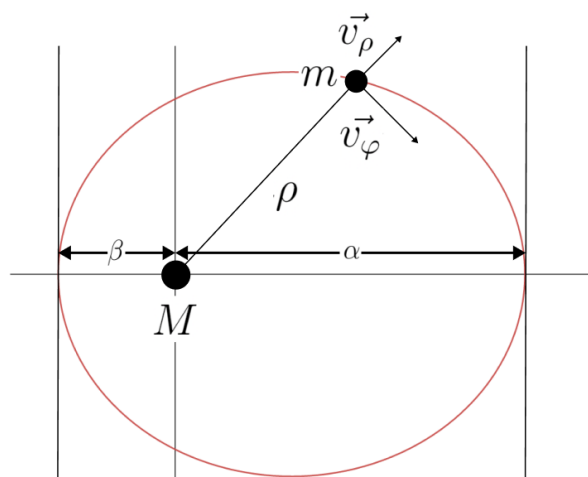
(5.3) Пусть полная энергия М.Т. E . Анализируя потенциальную кривую, получите **все** интервалы возможного нахождения М.Т. Ответ выразите через E, k, a .

Часть 6. Трава у дома...

При движении спутника массой m в гравитационном поле звезды массой M по эллипсу, он то отдаляется, то приближается к ней. Скорость спутника можно в любой момент времени разложить на радиальную \vec{v}_ρ и азимутальную \vec{v}_φ

Из механики небесного тела известно, что при движении в гравитационном поле сохраняется величина **момента импульса**:

$$L = mv_\varphi \rho$$



(5.1) Чему равна потенциальная энергия $U(\rho)$ спутника в поле звезды. Ответ выразите через ρ, G, M, m .

(5.2) Получите выражение для кинетической энергии спутника K . Ответ выразите через m, v_φ, v_ρ .

(5.3) Получите выражение для полной энергии спутника E . Ответ выразите через m, L, G, M, v_ρ, ρ .

Таким образом мы свели задачу к одномерному движению, где кинетическая

энергия записывается в виде $K = \frac{mv_\rho^2}{2}$

(5.4) Найдите эффективную потенциальную энергию $U_{eff}(\rho)$. Ответ выразите через m, L, G, M, ρ .

(5.5) Постройте схематический график $U_{eff}(\rho)$. Найдите все параметры (асимптоты, экстремумы, нули и т.д.).

(5.4) Анализируя потенциальную кривую, найдите апогей α и перигей β . Ответ выразите через E, m, L, G, M .

Математические подсказки:

$$\sum_1^n (\vec{x}_i + \vec{a})^2 = \sum_1^n x_i^2 + 2\vec{a} \sum_1^n \vec{x}_i + \sum_1^n a^2$$